

## الدراسات الاجتماعية - الصف السادس

الفصل الدراسي الأول	مراجعة	الزمن: ..... د /
التاريخ : ..... ربيع أول 1439 هـ ..... / 12 / 2017 م	الدرجة الكلية: .....	

الاسم: .....

الشعبة: .....

لموزج واجابة

Depth of Knowledge	Question # رقم السؤال	NGSS/AP - Learning Objective نواتج التعلم
Level 1: Recall الأسئلة المباشرة	1	يصوب ما تحته خط
Level 2: Basic Application أسئلة التطبيق	4-3	يعين عناصر الخريطة. يستكمل المخططات الذهنية و يملأ الفراغات.
Level 3: Strategic Thinking الأسئلة الاستنتاجية	5 - 2 (أ)	يربط بين المفهوم و التعريف المناسب. يستكمل بيانات الجدول من خلال منظم البيانات و الخريطة.
Level 4: Extended Thinking السؤال العميق	6-5	يصنف نتائج الثورة الصناعية. يقارن بين الثورة الصناعية و الثورة الزراعية.

## السؤال الأول:

➤ صوّب ما تحته خط :

انجلترا

1- بدأت الثورة الصناعية في القرن 18 في فرنسا.

جيمس وات

2- مخترع الآلة البخارية هو إسحاق نيوتن.

الطبيعية

3- تعد خرائط المناخ من أنواع الخرائط البشرية.

مفتاح الخريطة

4- عنوان الخريطة هو عنصر من عناصر الخريطة و يضم رموز الخريطة.

السؤال الثاني:

➤ صل بخط بين المفهوم و التعريف المناسب له :

المفهوم	التعريف
1- الثورة الصناعية	الخرائط التي تمثل الظواهر الطبيعية التي خلقها الله و لا دخل للإنسان في نشأتها.
2- الخرائط الطبيعية	الخرائط التي تعرض الظواهر البشرية التي تتصل بالإنسان و نشاطاته.
3- الخرائط البشرية	الإنتاج باستخدام الآلات الصناعية كبديل عن العمل اليدوي.

السؤال الثالث:

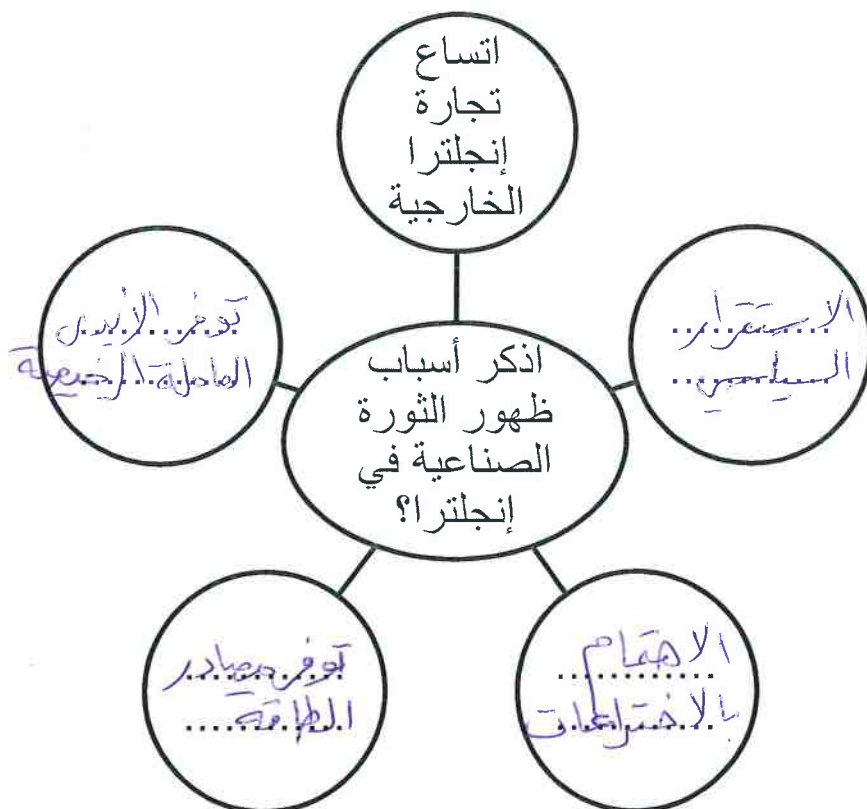
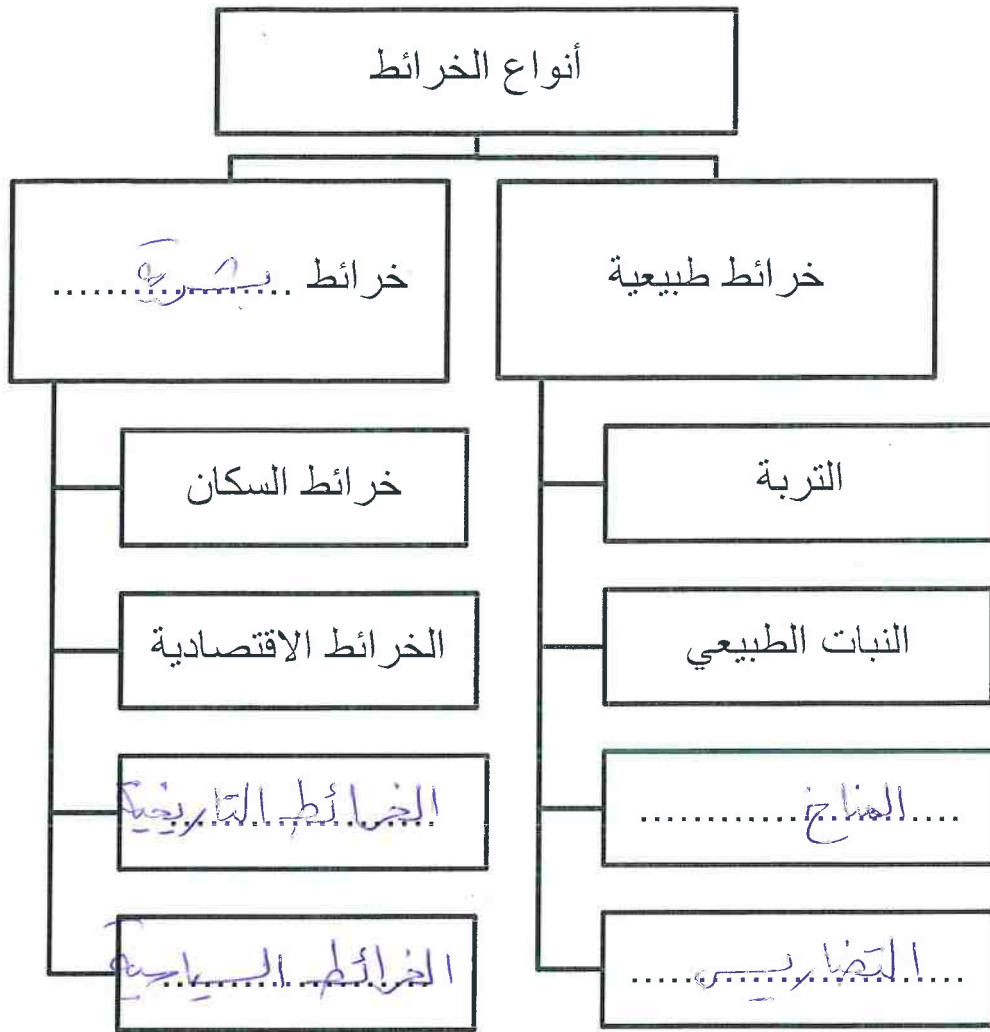
( أ ) - عزيزي الطالب ، على الخريطة أدناه عين أهم عناصر الخريطة؟

( ب ) - هل هذه الخريطة مكتملة العناصر ، دال على ذلك ؟

لا ، عيتم توضيح النظام السلمي أي خطوط الطول و دوائر العرض .


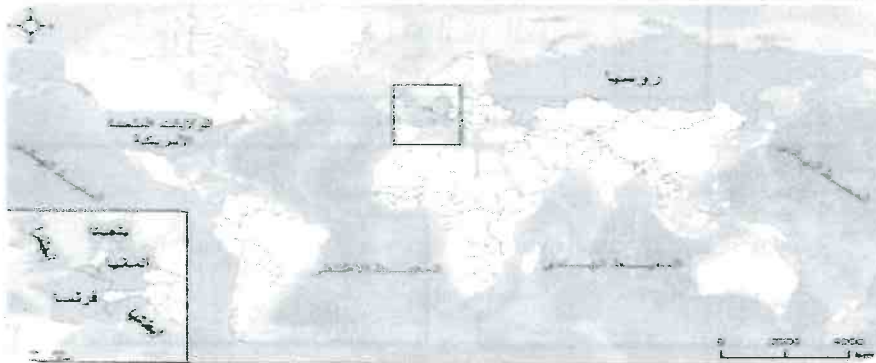
The diagram illustrates a map of the Middle East with various geographical and industrial features. The map is titled 'عنوان الخريطة' (Map Title) and 'الطراز الخريطة' (Map Style). It shows the Arabian Peninsula, the Arabian Gulf, and the Mediterranean Sea. Key locations labeled include Jordan (الأردن), Iraq (العراق), Saudi Arabia (السعودية), and Bahrain (البحرين). The map also shows the Persian Gulf (الخليج العربي) and the Mediterranean Sea (البحر المتوسط). A legend in the bottom left corner identifies symbols for 'مدينة صناعية كبرى' (Large industrial city), 'مدينة بها صناعات صناعية' (City with industrial industries), 'مدينة صناعية' (Industrial city), and 'منطقة صناعية تحت الإنشاء' (Industrial area under construction). Handwritten notes include 'أسهم الاتجاهات أو بين الاتجاهات' (Directions contribute or between directions) and 'مقياس الرسم' (Scale).

➤ استكمل المخططات التالية:



## السؤال الخامس:

➤ ( أ ) - لاحظ الخريطة التالية ثم استكمل بيانات الجدول الذي يليه:

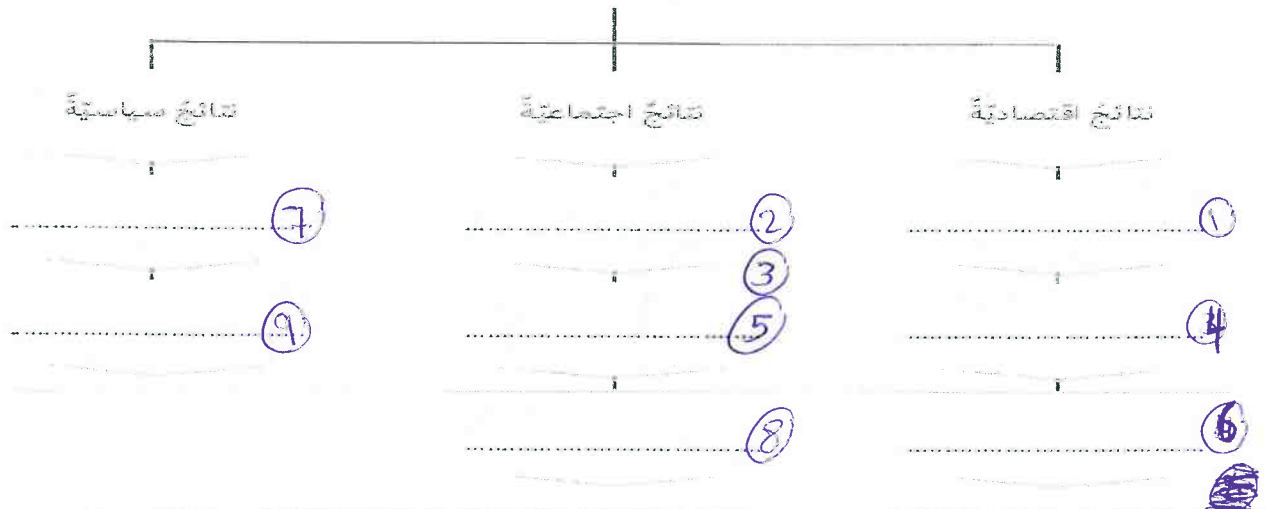


م	المهمة	الإجابة
1	أسمي الدولة التي ظهرت فيها الثورة الصناعية قبل غيرها من الدول.	الإنجلترا
2	أحدّد الدولة غير الأوروبية التي أهدت ميدان الثورة الصناعية.	أمريكا
3	أفسّر التباعد الزمني بين انطلاق الثورة الصناعية بين الدول الأوروبية.	التنافس وعدم الاستقرار

➤ ( ب ) - صنف نتائج الثورة الصناعية وفق الجدول التالي:

ازدهار التجارة واتساعها - تحسين طرق المواصلات - الاستغناء عن الأيدي العاملة - انتشار البطالة في بداية عهد التصنيع - سوء الأحوال المعيشية للعامل - إنشاء المصارف - ظهور أحزاب تدافع عن العمال - الهجرة من الريف إلى المدن - زيادة حدة التنافس الاستعماري.

النتائج المترتبة على الثورة الصناعية



السؤال السادس:

➤ (أ) - أجب عما يلي:

1- تتبع خطوات و مراحل الثورة الصناعية ؟

- آلات جديدة.
- الآلات البخارية
- المصانع والمدن
- تعدين الفحم
- الغزوات والعطارات

2- ما الاسم الذي عرفت به بريطانيا أثناء الثورة الصناعية ؟

- بريطانيا العظمى

➤ (ب) - قارن بين الثورة الزراعية و الصناعية من حيث ( الزمن ، المكان ، تأثيرها في حياة الناس).

وجه المقارنة	الثورة الزراعية	الثورة الصناعية
الزمن	...العصر الحجري الحديث	...العصر 18م
المكان	الثورة الأولى: غزاة آسيا من مصر الحجر الثورة الثانية: بريطانيا وهولندا	...وانجلترا... انتقلت لبقية دول غرب أوروبا
التأثير في حياة الناس	أدت إلى الجموع المجتمعات الزراعية... بداية التسكينة	أدت إلى تنسب الاقتصاد وهجرة الناس من الريف إلى المدن للعمل بالصناعة

تلا أدت إلى تنوع الإنتاج

