

الدراسات الاجتماعية - الصف الرابع

الفصل الدراسي الأول	مراجعة	الزمن: د /
التاريخ: ربيع أول 1439 هـ / 12 / 2017 م		الدرجة الكلية:

الاسم:

الشعبة:

نموذج إجابة

Depth of Knowledge	Question # رقم السؤال	NGSS/AP - Learning Objective نواتج التعلم
Level 1: Recall الأسئلة المباشرة	1	يصوب ما تحته خط
Level 2: Basic Application أسئلة التطبيق	3	يكتب دلالات الأرقام على الخريطة.
Level 3: Strategic Thinking الأسئلة الاستنتاجية	4 - 2	يستنتج الموقع النسبي لدولة الإمارات.
Level 4: Extended Thinking السؤال العميق	5	يفسر أهمية موقع دولة الإمارات.

السؤال الأول:

➤ صوّب ما تحته خط:

- 1- تمتد الدول العربية في قارتي ^{آسيا} أمريكا الشمالية و ^{أفريقيا} أمريكا الجنوبية.
- 2- تقع دولة الإمارات في ^{شرق} شمال الوطن العربي.
- 3- يبلغ عدد الدول العربية ²² 65 دولة.
- 4- تطل دولة الإمارات على بحر عمان ^{الخليج العربي} والبحر المتوسط.
- 5- ازدهرت في دولة الإمارات قديماً طرق التجارة ^{البرية والبحرية} الجوية.
- 6- يبلغ عدد دول شبه الجزيرة العربية ⁷ 9 دول.

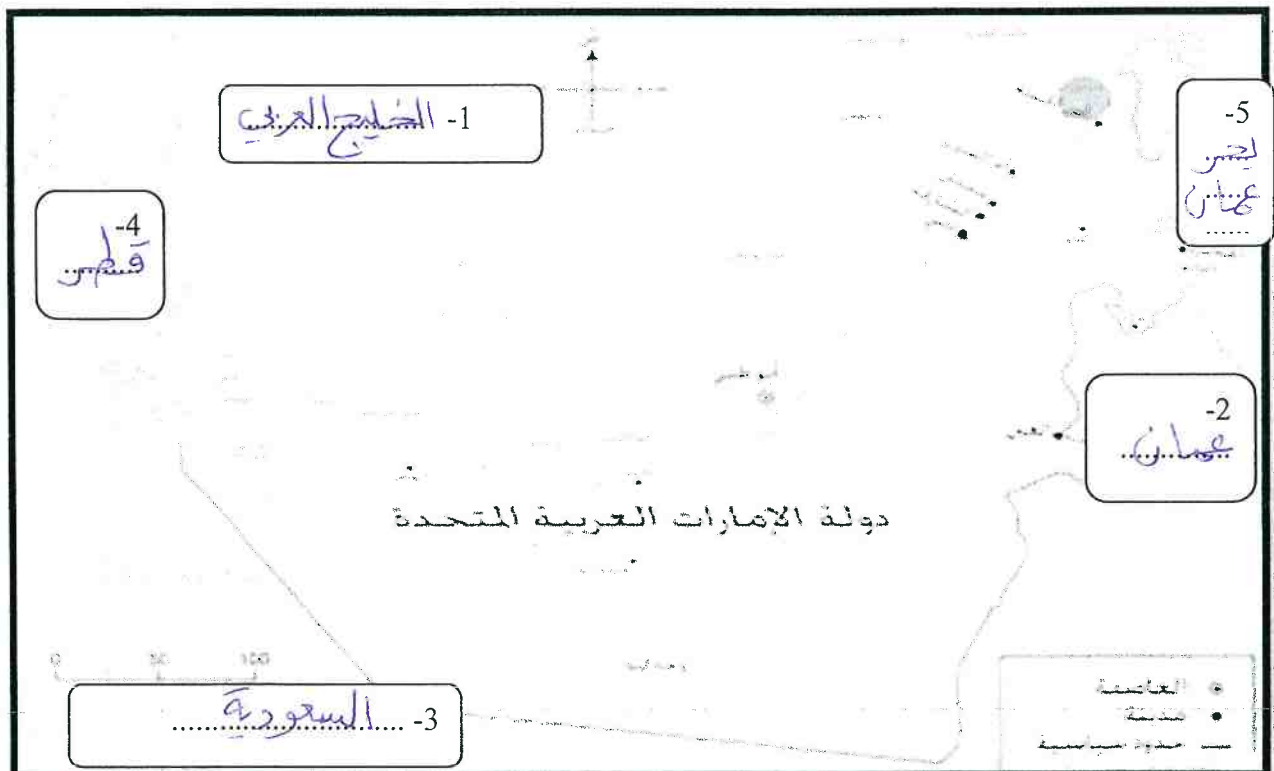
السؤال الثاني:

➤ صل بخط بين المفهوم و التعريف المناسب له :

المفهوم	التعريف
1- الحضارة	أرض تحيط بها المياه من كل الجهات.
2- الجزيرة	كل جهد يقوم به الإنسان لتطوير حياته.
3- تجارة الترانزيت	مياه تحيط بها اليابسة من ثلاثة جهات.
4- الحدود السياسية	أرض تحيط بها المياه من ثلاثة جهات و الجهة الرابعة متصلة باليابسة.
5- الخليج	استيراد البضائع ثم إعادة تصديرها لدول أخرى.
6- شبه الجزيرة	خطوط رسمها الإنسان لتفصل ما بين الدول.

السؤال الثالث:

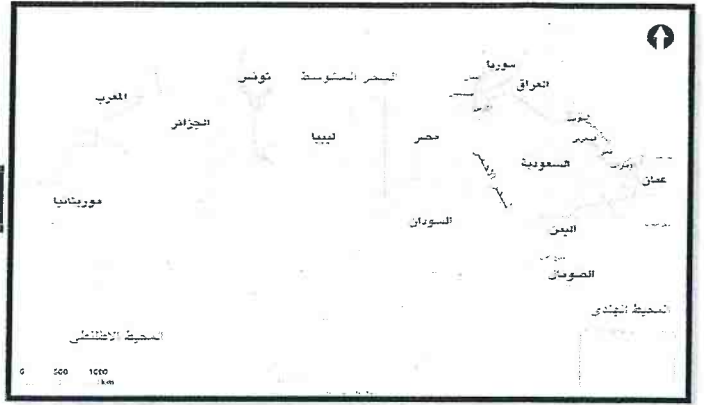
➤ اكتب دلالات الأرقام التالية على خريطة دولة الإمارات:



السؤال الرابع:

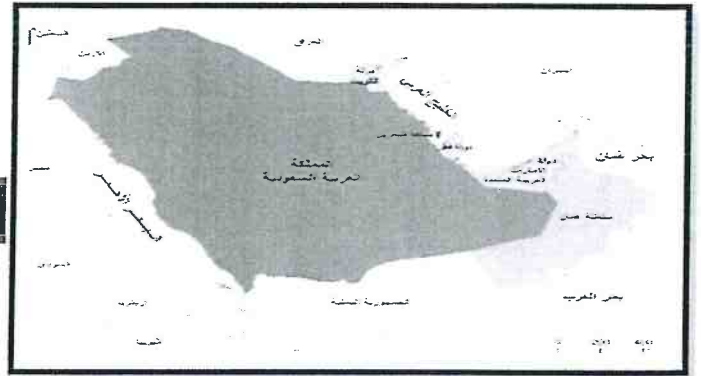
➤ لاحظ الخرائط التالية ثم ضع بأسفل كل منها الاسم المناسب محددًا موقع دولة الإمارات من كل منها:

تقع دولة الإمارات بالنسبة
لدول الوطن العربي في جهة
.....*الشرق*.....



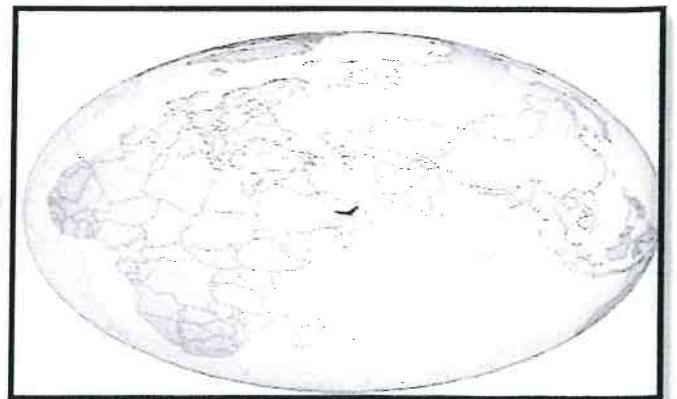
خريطة الوطن العربي

تقع دولة الإمارات بالنسبة
لدول شبه الجزيرة في جهة
.....*الشرق*.....



خريطة شبه الجزيرة العربية

تقع دولة الإمارات بالنسبة
لقارات العالم في *الوسط*.



خريطة العالم القديم

السؤال الخامس:

➤ (أ) - استكمل المخطط التالي:



(ب) - أجب عما يلي:

1- عدّد قارات العالم القديم؟

- آسيا
- أوروبا
- أفريقيا

2- ما أهمية موقع دولة الإمارات؟

- أهمية استراتيجية
- أهمية تاريخية
- أهمية اقتصادية

3- فسر اعتبار دولة الإمارات حلقة وصل بين الشرق و الغرب؟

لأنها تقع في وسط قارات العالم القديم